




۳ کدام یک از اعداد زیر از ۶ بیشتر است؟ رنگ بزن.



۴ با توجه به اعداد، مربع‌ها را رنگ کن و چوب‌خط مربوط به هر عدد را بکش.



۵ شکل‌های سمت چپ و راست روی هم چند تا است؟ با یک عدد نشان بده.



۳ «ای» آخر مستقل را اضافه کن، بخوان و بنویس.

نام + ای

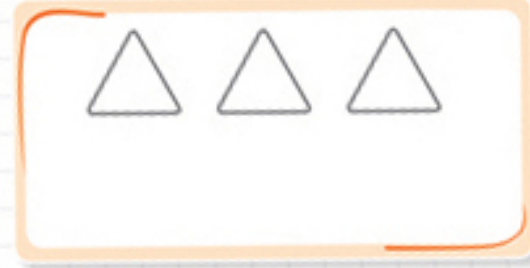

بوده + ای

کوزه + ای

ایستاده + ای

ریاضی

۱ در هر قسمت و در سمت راست، آن قدر شکل بکش که تعداد آن با دسته‌ی سمت چپ برابر شود.



۲ در هر ردیف، دسته‌هایی که تعداد برابر دارند را علامت (X) بزن، سپس عدد آن‌ها را نوشته و بین آن‌ها علامت = بگذار.

