

سنجابک و احترام به بزرگتر



مهارت زندگی هفته

سنجابک: سارا، تو جنگل ما کلاغ پیری هست که همه‌ی خبرهای جنگل رو به بقیه می‌ده. اون سال‌های زیادی تو جنگل به حیوونا کمک کرده و از همه بزرگتره و ما خیلی بهش احترام می‌ذاریم. شما آدما هم اینجوری هستین؟
سارا: بله، ما هم به بزرگترها و سالمندان خیلی احترام می‌ذاریم چون اونا خیلی تجربه‌های مفیدی دارن. مثلاً همین پدر بزرگ خودم به خاطر تجربه‌ای که داره، همه‌ی فامیل رو راهنمایی می‌کنه و ما بهش احترام می‌ذاریم. ما به پدر، مادر و معلم هم خیلی احترام می‌ذاریم چون به ما کمک می‌کنن و از ما بزرگترن. بچه‌ها شما رفتار تون با بزرگترها چطور است؟

فارسی	درس ۱۷
ریاضی	فصل ۸
علوم	درس ۱۳
اجتماعی	درس ۲۲
هدیه‌ها	درس ۱۸

بودجه بندی

فارسی

۱ جمله‌ها را با استفاده از کلمه‌هایی که پسوند «انه» دارند، کامل کنید.

دیروز همراه خانواده به بازار رفتیم. برادرم یک دست لباس ورزشی _____ خرید.
 پدرم یک ساعت _____ برای مادرم و یک پیراهن _____ برای خودش خرید.
 خرید. برای خواهر کوچکم یک اسباب بازی _____ خریدیم و من هم یک جفت کفش _____ خریدم. آن روز به ما خیلی خوش گذشت.

۲ کدام کلمه با بقیه تفاوت دارد؟

- الف) دخترانه ب) مؤدبانه ج) کودکانه د) کاشانه

دلیل:

۳ مطالب مهم آخرین کتاب داستانی را که خوانده‌اید، یادداشت برداری کنید و در یک بند بنویسید.

۴ اگر قرار باشد یک سفر خیالی را تجربه کنید، دوست دارید به کجا بروید؟

ریاضی

۱ دو عدد پیدا کنید که مجموع آن‌ها ۱۴ و حاصل ضرب آن‌ها ۴۸ باشد.

۲ برای ضرب 3×10 شکل بکشید و حاصل را به دست آورید.

۳ در جاهای خالی عدد مناسب بنویسید.

$$15 \times \underline{\quad} = 0$$

$$\underline{\quad} \times 20 = 800$$






$$2 \times 4 \times 5 = \underline{\quad}$$

$$62 \times \underline{\quad} = 620$$

$$16 \times \underline{\quad} = 16$$

$$\underline{\quad} \times 517 = 517$$

۴ وسط گل‌هایی را که حاصل ضرب آن‌ها ۱۵۰ می‌شود، رنگ کنید.



۵ ۴ جعبه جوراب داریم که در هر کدام ۵ بسته ۶ تایی جوراب است. در این ۴ جعبه روی هم چند جوراب داریم؟

۶ مساحت مستطیلی به طول ۳۰ سانتی‌متر و عرض ۸ سانتی‌متر را به دست آورید.

۷ ۱۰ سال چند ماه است؟

۸ اگر قیمت ۸ مداد ۴۰ تومان باشد، قیمت ۴۰ مداد چند تومان است؟

علوم

۱ پوشش بدن خزندگان و پوشش بدن پرندگان است.

۲ هر ویژگی را به جانور مورد نظر آن وصل کنید. (یک جانور اضافی است.)

- بدنش از پولک سخت پوشیده شده و خود را روی زمین می کشد. ■ قورباغه
- در گروه پرندگان است اما قادر به پرواز کردن نیست. ■ مار
- بدنش پوشیده از پولک و لغزنده است. ■ پنگوئن
- ماهی

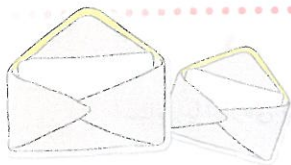
۳ رسول خدا (ص) درباره‌ی آزار رساندن، به حیوانات چه فرمودند؟

۴ در مورد پرهای پرندگان پژوهش کنید و به سؤال‌های زیر پاسخ دهید.

الف) پرهای پوششی بدن پرنده با پرهای بال و دم چه تفاوتی دارد؟

ب) پرهای پوششی و پرهای بال و دم، هر کدام چه نقشی دارند؟

مطالعات اجتماعی



۱ نشانی گیرنده در کدام قسمت از پاکت نامه نوشته می شود؟

- الف) بالا - راست
- ب) پایین - راست
- ج) بالا - چپ
- د) پایین - چپ

۲ چه کسانی نامه‌های یک منطقه را به دست مردم می‌رسانند؟

۳ جاهای خالی را با کلمه‌های مناسب کامل کنید.

(الف) تمبر را در _____ پاکت می‌چسبانیم.

(ب) امروزه می‌توانیم نامه‌های خود را به وسیله‌ی _____ ارسال کنیم.

(ج) هر خانه‌ای غیر از نشانی، یک _____ هم دارد.

هدیه‌های آسمان

۱ داستان به هم ریخته‌ی زیر را بخوانید و به ترتیب زمان مناسب شماره‌گذاری کنید.

بعد لباسم را می‌پوشم و به سمت مدرسه می‌روم.


بعد از خوردن غذا استراحت می‌کنم و تکالیفم را انجام می‌دهم.

من هر روز صبح زود بیدار می‌شوم و صبحانه می‌خورم.

برای خوردن ناهار در خانه سفره و ظرف‌ها را آماده می‌کنم.

در راه بازگشت از مدرسه برای کمک به مادرم نان می‌خرم.

بعد از خوردن شام، قبل از خواب مسواک می‌زنم.



۲ به نظر شما نظم در کارها چه فایده‌هایی دارد؟



مهارت در کاربرد کلماتی که پسوند «انه» دارند - آشنایی با ویژگی‌های یادداشت‌برداری

فارسی



توانایی در کشیدن شکل برای به‌دست آوردن حاصل ضرب و حل مسائل مربوطه

ریاضی



توانایی در تشخیص ویژگی‌های پرندگان، خزندگان و دوزیستان (پوشش بدن و نوع حرکت)

علوم



آشنایی با اداره‌ی پست و کد پستی و نحوه‌ی ارسال نامه و تکمیل پاکت نامه

اجتماعی



مهارت در مرتب کردن جملات یک داستان با توجه به مفهوم نظم و ترتیب

هدیه‌ها

نشانه‌های تحقق اهداف