

## رعایت قانون

همه می دانند که زندگی بهتر و پیشرفت در جامعه، در صورتی امکان پذیر است که همگان قوانین زندگی اجتماعی را رعایت کنند. درست مثل اینکه لازم است هنگام چراغ قرمز توقف کنیم یا لازم است هنگام درس دادن معلم، سکوت کنیم و گوش بدهیم یا در مراسم صبحگاهی مدرسه شرکت کنیم. اگر نظم و قانون را رعایت نکنیم، همه چیز در شهر و جامعه به هم می ریزد و ما نیز در این بی نظمی نمی توانیم زندگی آرام و موفقی داشته باشیم. بچه ها به نظر شما جامعه ی بی قانون چطور جامعه ای است؟

مهارت زندگی هفته

فارسی ۵ درس

ریاضی ۲ فصل

علوم ۴ درس

اجتماعی ۹ درس

هدیه ها ۵ درس

بودجه بندی

فارسی

۱ جمله های زیر را به ترتیب مراحل انجام کار، شماره گذاری کنید.



دانه اش را به دقت در گلدان گذاشت.

هر روز به گلدان آب می داد.

جای دانه ها را تغییر داد و در گلدان بزرگ تری گذاشت.

گلدان را زیر آفتاب گذاشت.

۲ با توجه به عبارت «حاکم مرد را طلیید و به نرمی و درشتی زر را بستد»، به سؤال های زیر پاسخ دهید.

الف) نهاد و مفعول را مشخص کنید.

مفعول

نهاد

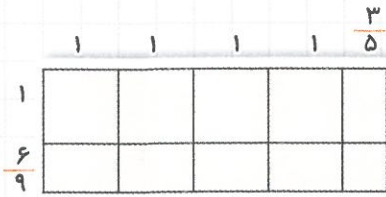
ب) دو واژه ی متضاد در عبارت پیدا کنید و بنویسید.

ج) معنی عبارت داده شده را بنویسید.

۳ با توجه به داستان «گلدان خالی»، چرا دانه ها در گلدان پینگ رشد نکرد ولی بقیه ی بچه ها با گلدان های

پر از گل نزد پادشاه آمدند؟

۱ عبارت ضرب مربوط به شکل زیر را بنویسید و حاصل آن را به کمک جمع مساحت‌ها به دست آورید.



۲ حاصل عبارت‌های زیر را به دست آورید و پاسخ را تا حد امکان ساده کنید.

$$\frac{5}{8} \times 3 \frac{2}{8} =$$

$$3 \frac{3}{8} \times 5 \frac{2}{9} =$$

$$1 \frac{2}{6-3} \times 1 \frac{5}{9-2} \times 1 \frac{2}{6-2} =$$

۳ حاصل  $2 \frac{1}{2} \times 3 \frac{1}{3}$  را به روش مساحتی (رسم شکل) به دست آورید.

۴ کشاورزی می‌خواهد یک زمین ۲۰۰ متری را شخم بزند. او تاکنون  $\frac{2}{8}$  آن را شخم زده است. چند

متر دیگر باقی مانده است؟

۵ مادر مبین می‌خواهد برای اتاق او فرش بخرد که از هر طرف یک متر با دیوار فاصله داشته باشد.

اگر عرض اتاق مبین  $3 \frac{5}{8}$  و طول آن  $4 \frac{6}{5}$  باشد، مساحت فرش چقدر باید باشد؟

۱ چرا از بدن جانوران خشکی، فسیل کمتری تشکیل می‌شود؟

۲ فسیل‌های جانوران بیشتر مربوط به کدام قسمت از بدن آن‌ها می‌باشد؟ (سه مورد)

.....

۳ در هر یک از موارد زیر، مشخص کنید فسیل گیاه با محل زندگی آن مطابقت دارد یا خیر.

مطابقت دارد	مطابقت ندارد	محل زندگی	فسیل گیاه
<input type="radio"/>	<input type="radio"/>	بیابان	کاکتوس
<input type="radio"/>	<input type="radio"/>	گرم و خشک	سرخس
<input type="radio"/>	<input type="radio"/>	گرم و خشک	برگ درخت خرما

۴ مهم‌ترین ویژگی سنگ‌های رسوبی چیست؟

۵ عبارت‌های درست را با (✓) و نادرست را با (✗) مشخص کنید.

(الف) بیشتر فسیل‌ها مربوط به قسمت‌های نرم جانوران هستند.

(ب) از پوست بدن جانوران فسیل بیشتری یافت می‌شود تا ناخن آن‌ها.

(ج) در لایه‌های رسوبی هر چه به لایه‌های بالایی می‌رسیم، فسیل‌های یافت شده جدیدتر هستند.

مطالعات اجتماعی

۱ به کسی که قطار را هدایت می‌کند ..... و به کسی که کشتی را هدایت می‌کند ..... می‌گویند.


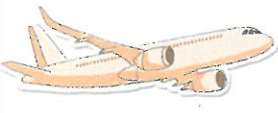

۲ عمده محصولاتاتی که به کشور ایران وارد می‌شوند را بنویسید. (سه مورد)

.....

۳ چهار شهر را نام ببرید که دارای فرودگاه بین‌المللی هستند.

Four empty rounded rectangular boxes for writing the names of cities with international airports.

۴ مزایا و معایب وسایل نقلیه‌ی زیر را بنویسید. (هر کدام یک مورد)

			وسایل نقلیه
			مزایا (خوبی‌ها)
			معایب (بدی‌ها)

هدیه‌های آسمان

۱ از نظر رسول اکرم (ص) خوش‌رویی سبب چه چیزی می‌شود؟

۲ در کدام سوره‌ی قرآن، خدا و فرشتگانش بر پیامبر (ص) درود می‌فرستند و مؤمنان را به این کار



دعوت می‌کنند؟

۳ \_\_\_\_\_ نور چشم من است. (پیامبر اکرم (ص))

۴ حدیثی از پیامبر (ص) در مورد مسواک زدن بنویسید.



مهارت در شناخت اجزای جمله - مرتب‌سازی جملات با توجه به ارتباط مفهومی - توانایی درک متن

فارسی



مهارت در انجام روش مساحتی برای به‌دست آوردن حاصل ضرب کسرها و حل مسئله

ریاضی



آشنایی با فسیل و شرایط لازم برای تشکیل آن و اهمیت مطالعه درباره‌ی آن

علوم



آشنایی با خصوصیات حمل و نقل دریایی و هوایی، مزایا و معایب آن

اجتماعی



آشنایی با آثار خوشرویی و فواید مسواک زدن با توجه به گفتار پیامبر اکرم (ص)

هدیه‌ها

نشانه‌های تحقق اهداف