

خواب آشفته

بسیاری از پدر و مادرها عادت دارند که برای بیدار شدن با استفاده از زنگ هشدار موبایل و یا سرزدن به پیام‌های خود، تلفن همراهشان را هنگام خواب در کنار خود قرار دهند و شاید ندانند که این کار، به دلیل اشعه‌ی موبایل بسیار خطرناک است و نمی‌توانند به راحتی بخوابند و صبح روز بعد شادابی کافی را داشته باشند. فرزندان آگاه و باهوش سعی می‌کنند بزرگترها را از این خطرات آگاه کنند. بچه‌ها در خانه‌ی شما، کسانی هستند که این کار خطرناک را انجام بدهند؟

مهارت زندگی هفته

فارسی	درس ۱۳
ریاضی	فصل ۵
علوم	درس ۱۰
اجتماعی	درس ۱۵
هدیه‌ها	درس ۱۴

بودجه بندی

فارسی

۱ شعر «لطف حق» را به نثر آورده‌ایم. با دقت بخوانید و متن را کامل کنید.

زمانی که مادر موسی (ع) فرزندش را به رودخانه‌ی _____ انداخت، به ساحل با نگاه کرد و گفت: «ای فرزند _____ بی‌گناه من، اگر خداوند تو را فراموش کند، آب، جسم تو را از بین خواهد برد.»
از جانب خداوند _____ آمد: «که این چه فکر _____ است، کودکی که تو در _____ انداختی اکنون جایی است که باید باشد.»

۲ منظور شاعر از «کشتی بی‌ناخدای» چیست؟

۳ در جمله‌ی «دایه‌اش سیلاب و موجش مادر است» شباهت مادر با موج در چیست؟

۴ با ترکیب‌های زیر جمله بسازید.

لطف خدا:

مهر مادر:

۵ مخالف کلمه‌های زیر را بنویسید.

مرگ ≠

طغیان ≠

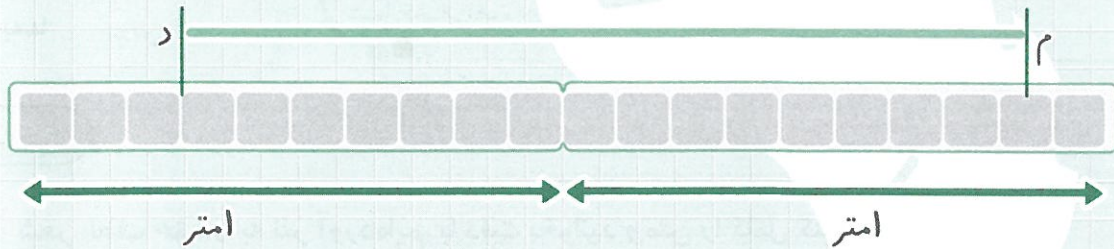
باطل ≠

۱ دو خطکش یک متری هم اندازه به دنبال هم قرار گرفته و هر کدام به ۱۰ قسمت مساوی تقسیم

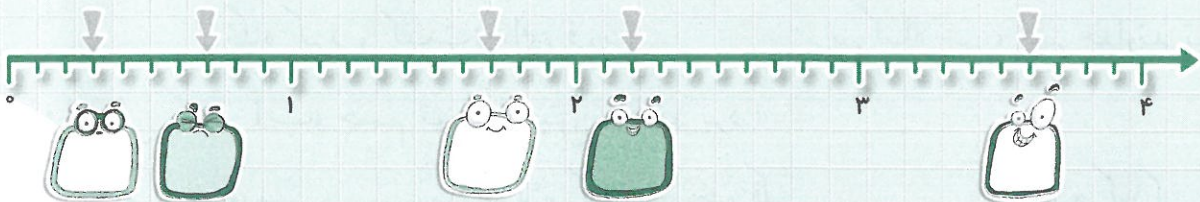
شده است. با توجه به شکل، طول میله‌ی فلزی «د م» چقدر است؟

۱) $\frac{1}{5}$ متر است. ۲) از $\frac{1}{5}$ متر بیشتر است.

۳) از $\frac{1}{5}$ متر کمتر است. ۴) $\frac{1}{6}$ متر است.



۲ عدد اعشاری که هر فلش نشان می‌دهد را بنویسید.



۳ عددهای زیر را ابتدا به صورت کسری و سپس به صورت عدد اعشاری بنویسید.

$$2 \frac{1}{2} =$$

$$4 \frac{6}{30} =$$

$$\frac{4}{5} =$$

$$\frac{4}{20} =$$

۴ هر یک از عددهای اعشاری زیر را با رقم و حروف بنویسید.

$1248 \div 2$ $\div 7$

سه و پنج دهم هزار و پانصد و سی و دو و نه دهم

۵ در جاهای خالی عدد مناسب بنویسید.

الف) ۱۵ میلی‌متر = سانتی‌متر یا سانتی‌متر تا $\frac{1}{10}$ سانتی‌متر

ب) ۱۵۳ تا $\frac{1}{10}$ سانتی‌متر یعنی سانتی‌متر و میلی‌متر یا

سانتی‌متر

۶ یک واحد کامل را می‌توان به چند تا ۱ تبدیل کرد؟

۷ آیا می‌توان هر کسری را به عدد اعشاری تبدیل کرد؟ چه شرطی لازم است؟

علوم تجربی

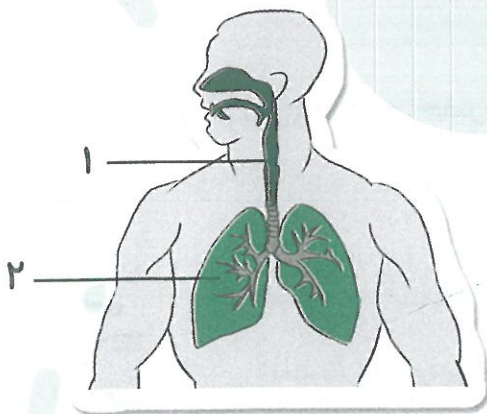
۱ سیگار کشیدن به کدام یک از عضوهای بدن آسیب بیشتری وارد می‌کند؟

الف) کلیه ب) کبد ج) ریه د) معده

۲ دم و بازدم را توضیح دهید.

۳ تنفس از راه دهان بهتر است یا بینی؟ چرا؟

۴ با توجه به شکل، قسمت (۱) و (۲) به ترتیب چه نام دارد؟



۱

۲

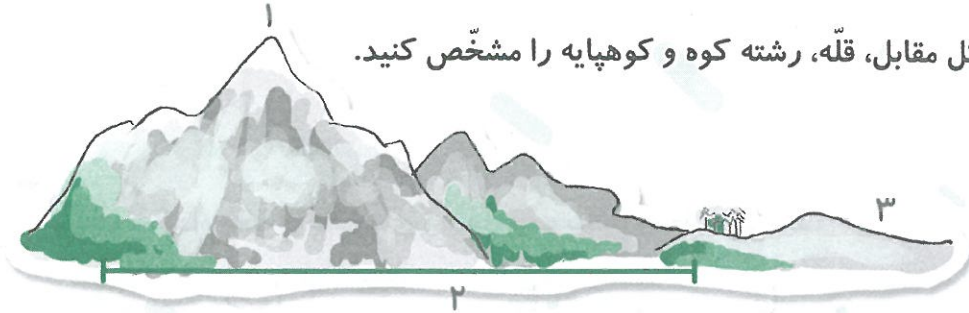
مطالعات اجتماعی

۱ جویبار چگونه تشکیل می‌شود؟

۲ جاهای خالی را کامل کنید.

الف) به پستی و بلندی‌های زمین _____ می‌گویند.
ب) دشت _____ و دشت _____ از وسیع‌ترین دشتهای ایران هستند.
ج) دشتهای زمین‌های _____ و هموارند.

۳ در شکل مقابل، قلّه، رشته کوه و کوهپایه را مشخص کنید.



کوهپایه:

رشته کوه:

قلّه:

هدیه‌های آسمان

۱ کوه _____ در کنار شهر _____، معروف‌ترین کوه در سرزمین عربستان است و غار _____ در آن قرار دارد.

۲ دشمنان خدا چه واکنشی نسبت به ازدواج حضرت خدیجه (س) با پیامبر (ص) نشان دادند؟

۳ پیامبر اسلام (ص) درباره‌ی حضرت خدیجه (س) چه می‌فرمایند؟

فارسی



توانایی تکمیل متن و درک مفهوم آن - توانایی در ساخت جمله و نوشتن مخالف کلمه‌ها

ریاضی



آشنایی با اعداد اعشاری و توانایی نمایش روی محور و تبدیل کسر به اعشار - مهارت در استفاده‌ی عدد اعشاری برای تبدیل واحدها

علوم



آشنایی با دستگاه تنفس و عمل دم و بازدم

اجتماعی



آشنایی با قلّه، رشته کوه، کوهپایه و دشت

هدیه‌ها



آشنایی با زندگی حضرت خدیجه (س) و شرایط پیامبر (ص) در دوران ازدواج با ایشان

نشانه‌های تحقق اهداف